

Holiday Assignments

ADVANCE LEVEL

Subject: Economics

Grade 12

Medium: Sinhala

1) පහත සඳහන් දෑ කුමන නිෂ්පාදන සාධක හා ඵලදායීතා සාධක යටතට ඔබ ඇතුළත් කරන්නෙහිද?

- (i) කුලී මෝටර් රථයක් -----
- (ii) පරිගණක මෘදුකාංගයක් -----
- (iii) පැය ඒකක කාලයක් නීති උපදෙස් ලබා දීමක් -----
- (iv) පෝස්පේට් නිධියක් -----
- (v) විදුලි බලාගාර -----
- (vi) අමුණු -----
- (vii) අමුද්‍රව්‍ය තොගයක් -----
- (viii) ශිල්පීය දැනුම් සම්භාරය -----
- (ix) භාවිත හැකියා -----
- (x) වාරිමාර්ග -----
- (xi) ප්‍රායෝගික දක්ෂතා -----
- (xii) නිෂ්පාදන කාර්ය සඳහා යෙදෙන බුරුවෝ -----
- (xiii) පර්යේෂණ අත්හදා බැලීම -----
- (xiv) නගුල් -----
- (xv) යන්ත්‍ර සූත්‍ර හා උපකරණ -----
- (xvi) රබර් චක්‍රයක් -----
- (xvii) ගල් අගුරු පතලක් -----
- (xviii) බණිප් තෙල් නිධියක් -----
- (xix) කරදිය මසුන් -----
- (xx) ඉස්සන් වගා බිමක් -----

2) රටක ප්‍රාග්ධන සම්පාදනයෙහි ප්‍රධාන ප්‍රභවයන් මොනවාද?

meyeos, s lsrSu

3) ශුද්ධ ආයෝජනය = -----

meyeos, s lsrSu

4) ශ්‍රම බලකා සහභාගීත්ව අනුපාතිකය = -----

meyeos, s lsrSu

5) භාණ්ඩ හා සේවා නිෂ්පාදනය කිරීම සඳහා සංයෝග කළ යුතු යෙදවුම් -----
ලෙස හැඳින්වේ.

meyeos, s lsrSu

6) ශ්‍රම බලකායේ ප්‍රධාන කොටස් දෙක -----
සමන්විත වේ.

meyeos, s lsrSu

7) විශේෂයෙන් පෝෂණය, නිරෝගී බව, ඉගෙනුම යනාදී මූලික මිනිස් අවශ්‍යතා ඉටු කිරීමෙහිලා ඉවහල් වන එයට ආධාර කෙරෙන ප්‍රාග්ධන වර්ග ----- වේ.

meyeos, s lsrSu

8) ආර්ථික විද්‍යාව,

- | | | |
|-----------------------|------------------------|------------------------|
| 1. සමාජ විද්‍යාවකි | 3. මානව විද්‍යාවකි | 5. සමාජ මනෝ විද්‍යාවකි |
| 2. සමාජයීය විද්‍යාවකි | 4. ස්වභාවික විද්‍යාවකි | |

meyeos, s lsrSu

9) ආර්ථික විද්‍යාත්මකව සිතීම යන්නෙන් අදහස් වන්නේ,

1. ආර්ථික විද්‍යාවේ න්‍යායන් පිළිබඳව අවබෝධය තුළින් නිවැරදි තීරණ කරා එළඹීමයි.
2. ආර්ථික විද්‍යාඥයින් විසින් අනුගමනය කරන ලද ක්‍රියා පටිපාටි අනුව තීරණ ගැනීමයි.
3. සුක්ෂම හා සාර්ව ආර්ථික ප්‍රවේශයන් ඔස්සේ තීරණ ගැනීමයි.
4. ආන්තික පිරිවැය හා ආන්තික ප්‍රතිලාභ සසඳා බලා තීරණ ගැනීමයි.
5. යථානුරූපී හා අභිමතානුරූපී ලෙස තීරණ ගැනීමයි.

meyeos, s lsrSu

10) ජනතාවගේ ජීවන තත්ත්වය රඳා පවතින්නේ,

1. අවශ්‍යතා හා වුවමනා සපිරෙන ප්‍රමාණය මතය
2. ආදායම මතය
3. සම්පත් වල හිමිකාරිත්වය මතය
4. රැකියාව මතය
5. ආර්ථික තත්ත්වය මතය

meyeos, s lsrSu

11) ආර්ථික පද්ධතියක මූලික කාර්ය වන්නේ,

1. භාණ්ඩ හා සේවා නිෂ්පාදනය කිරීම
2. නීතිරීති සම්පාදනය කිරීමය
3. මූලික ආර්ථික ප්‍රශ්න විසඳා ගැනීම සඳහා කටයුතු කිරීමය
4. භාණ්ඩ හා සේවා හුවමාරු කර ගැනීමය
5. සම්පත් බෙදා හැරීමය

meyeos, s lsrSu

12) ආර්ථික විද්‍යා විෂයේ හරය නිවැරදිව පිළිබිඹු වෙන ප්‍රකාශය තෝරන්න.

1. ආර්ථික විද්‍යාව සමාජීය විද්‍යාවන්ගේ රැජිණයි.

2. ආර්ථික විද්‍යාව දර්ශනයක් පමණක් නොව මනසට ආධාරක සපයන මෙවලම් කට්ටලයකි.
3. තීරණ ගැනීමේ ශික්ෂණය පාලනය කරන ප්‍රධාන රාමුවයි.
4. ආර්ථික හැසිරීම හා සංසිද්ධි පරීක්ෂණය කිරීමයි.

meyeos, s lsrSu

.....

.....

.....

.....

.....

13) ඇල්ග්‍රිඩ් මාපේ ආර්ථික විද්‍යාව නිර්වචනය කර ඇත්තේ,

1. ධනයේ ස්වභාවය හා ධනයට හේතු විමර්ශණය කරන විෂයයක් ලෙසය
2. එදිනෙදා ව්‍යාපාරික ජීවිතයේ දී මිනිසුන් කටයුතු කරන ආකාරය අධ්‍යයනය කරන විෂයක් ලෙස
3. විකල්ප භාවිත සහිත හිඟ සම්පත් හා මිනිස් වුවමනා අතර පවතින සම්බන්ධතාවයේ දී මිනිස් හැසිරීම අධ්‍යයනය කරන විෂයයක් ලෙසය.
4. නිවැරදි නිගමන කරා එළඹීමට මනසට ආධාරක සපයන මෙවලම් කට්ටලයක් ලෙසය.

meyeos, s lsrSu

.....

.....

.....

.....

.....

14) ස්වාර්ථය උපරිම කිරීම සඳහා තේරීම් සිදු කල හැක්කේ,

1. ආන්තික පිරිවැය ආන්තික ප්‍රතිලාභ වලට සමාන වන විටය
2. ආන්තික ප්‍රතිලාභ ආන්තික පිරිවැය ඉක්ම වන විටය
3. ආන්තික පිරිවැය ආන්තික ප්‍රතිලාභ ඉක්මවන විටය
4. ආවස්ථික පිරිවැය ශුන්‍ය වන විටය
5. තේරීමේ දී ආවස්ථික පිරිවැයක් හට ගන්නා බව පිළිගන්නා විටය

meyeos, s lsrSu

.....

.....

.....

.....

.....

15) යථානුරූපී ප්‍රකාශයක් වීම සඳහා අවශ්‍ය නොවන කොන්දේසිය තෝරන්න.

1. පුද්ගල බද්ධ නොවීම
2. පරීක්ෂණයට භාජනය කළ හැකි වීම
3. අනිවාර්යෙන්ම සත්‍ය ප්‍රකාශයක් වීම
4. සාරධර්ම මත පදනම්ව නොතිබීම
5. විද්‍යාත්මක ස්වරූපයක් ගැනීම

meyeos, s lsrSu

16) යථානුරූපී ප්‍රකාශය හඳුනා ගන්න

1. ආදායම වැඩිවන විට මහජනතාව ඉතුරුම් වර්ධනය කිරීමට පෙළඹේ
2. මහජනතාව ඉතුරුම් වර්ධනය කිරීම සඳහා පෙළඹවිය යුතුය
3. ගම හඳා රට හඳමු
4. ජනගහනය රටක සම්පතකි
5. සේවා විද්‍යුත්තිය අඩු කිරීමට වඩා උද්ධමනය පහත හෙලීම යෝග්‍ය වේ

meyeos, s lsrSu

17) යථානුරූපී හා අභිමතානුරූපී ප්‍රකාශ සම්බන්ධයෙන් අසත්‍ය ප්‍රකාශය තෝරන්න.

1. යථානුරූපී ප්‍රකාශයක් වීම සඳහා එය සත්‍ය වීම අවශ්‍ය නොවේ.

2. පුද්ගල අභිමතය අත්කරගත වූ පමණින්ම එය අභිමතානුරූපී ප්‍රකාශයක් නොවේ.
3. පුද්ගල අභිමතය භාවිතයකින් තොරව ප්‍රකාශයක වලංගුතාව අධ්‍යයනය කළ හැකි විට එය යථානුරූපී වේ.
4. සියලුම ප්‍රකාශ අවශ්‍යයෙන්ම යථානුරූපී හා අභිමතානුරූපී ලෙස වර්ග කළ නොහැකිය
5. යම් ප්‍රකාශයක් යථානුරූපී වන්නේ එය සත්‍ය කරුණු හා සම්බන්ධ වේ නම් පමණි

meyeos, s lsrSu

19) ආර්ථික න්‍යාය ගොඩ නැංවීමේ දී අනුගමනය කළ යුතු පියවරයක් නොවන්නේ

1. ගැටලුව නිවැරදිව තෝරා ගැනීමය
2. ගැටලුව පැහැදිලි කිරීම සඳහා අවශ්‍ය විචල්‍ය තෝරා ගැනීමය
3. උපකල්පන ඉදිරිපත් කිරීමය
4. කල්පිත භාවිතයෙන් පුරෝකථනය කිරීමය
5. කල්පිත පාලනය කිරීමය

meyeos, s lsrSu

20) සාර්ව ආර්ථික විද්‍යාව වඩාත් හොඳින් පැහැදිලි කෙරෙන ප්‍රකාශය තෝරන්න

1. ආර්ථික පද්ධතියක් සමස්තයක් ලෙස ගෙන එහි ක්‍රියාකාරීත්වය අධ්‍යයනය කරන විෂයකි
2. ආර්ථිකයක සමස්ත විචල්‍ය අධ්‍යයනය කරන විෂයකි
3. ආර්ථිකයක පාරිභෝගිකයන් ශ්‍රමිකයන් නිෂ්පාදන ආයතන වෙන් වෙන් වශයෙන් ගෙන අධ්‍යයනය කරන විෂයකි
4. වෙළෙඳපොළේ පාරිභෝගික හැසිරීම හා ව්‍යාපාර ආයතන වල ක්‍රියාකාරීත්වය අධ්‍යයනය කරන විෂයකි.

meyeos, s lsrSu

21) මූලික ආර්ථික ප්‍රශ්නය පැන නගිනුයේ,

1. ප්‍රයෝජනයට නොගත් සම්පත් පැවතීම නිසාය
2. අසීමිත වුවමනා පැවතීම නිසාය
3. සම්පත් විකල්ප ප්‍රයෝජන සඳහා යෙදිය හැකි වීම නිසාය
4. දූප්පත් ජන කොටස් වලට මූලික අවශ්‍යතා සපුරා ගැනීමට නොහැකි වීම නිසාය
5. සියලු වුවමනාවන් සපුරා ගැනීමට තරම් ප්‍රමාණවත් සම්පත් ප්‍රමාණයක් නොතිබීම නිසාය

meyeos, s lsrSu

22) කිසියම් භාණ්ඩයක් ආර්ථික භාණ්ඩයක් වන්නේ පහත සඳහන් ලක්ෂණ අතුරින් කුමන ලක්ෂණය නිසාද?

1. සාමූහිකව පරිභෝජනය කළ හැකි වීම
2. මිනිස් අවශ්‍යතාවක් සපුරාලීම
3. ආන්තික උපයෝගීතාව හීන වීම
4. නිපදවීම සඳහා සම්පත් පිරිවැයක් දැරීම
5. එක් තැනක සිට තවත් තැනකට ප්‍රවාහනය කළ හැකි වීම

meyeos, s lsrSu

23) ව්‍යවසායකත්වයේ විශේෂිත කාර්යය කවරේද?

1. නිෂ්පාදන ක්‍රියාවලිය කාර්යක්ෂම ලෙස කළමනාකරණය කිරීම
2. ව්‍යවසායේ නිෂ්පාදන සැලැස්ම ක්‍රියාත්මක කිරීම
3. නව්‍යතා සම්පාදනය සඳහා ආරම්භක ප්‍රයත්න දැරීම
4. ව්‍යාපාරයක ප්‍රතිපත්තිමය තීරණ ක්‍රියාත්මක කිරීම
5. ලාභ ලැබීමේ අරමුණින් ව්‍යාපාරික කාර්යයක නිරත වීම

meyeos, s lsrSu

.....

.....

.....

.....

.....

24) මානව ප්‍රාග්ධනය බිහි වන්නේ මතු දැක්වෙන කුමන ක්‍රියාවලිය මගින් ද ?

1. නව ප්‍රාග්ධන උපකරණ සමග ශ්‍රමය යොදා ගැනීම
2. ප්‍රාග්ධන උපකරණ නිෂ්පාදනය සඳහා සේවා වියුක්ත ශ්‍රමය යොදා ගැනීම
3. ශ්‍රම බලකායේ අධ්‍යාපන මට්ටම නැංවීමට සහ පුහුණු කිරීම් හා ඉගෙනුම් මගින් දැනුම සහ නිපුණතා වර්ධනය
4. ශ්‍රම සුක්ෂම නිෂ්පාදන ක්‍රම යොදා ගැනීම
5. නව තාක්ෂණය භාවිතා කිරීම

meyeos, s lsrSu

.....

.....

.....

.....

.....

25) ශ්‍රම ඵලදායීතාවය තීරණය වීම කෙරෙහි බලනොපාන සාධකය කුමක්ද?

- | | |
|-------------------------|---------------------|
| 1. ප්‍රාග්ධන සුක්ෂමතාවය | 4. රැකියාවේ තෘප්තිය |
| 2. වැටුප් මට්ටම | 5. ජන සංඛ්‍යාව |
| 3. පුහුණුව හා පලපුරුද්ද | |

meyeos, s lsrSu

27) භාණ්ඩ හා සේවා නිෂ්පාදනයේ දී සෑම සමාජයක් ම තෝරා ගැනීමේ ප්‍රශ්නයකට මුහුණ දේ යැයි අප කියන්නේ ඇයි ?

1. මිනිස් අවශ්‍යතා අසීමිත වීම
2. ආර්ථික උතුන සංවර්ධිත ඒවා වීම
3. මිනිස් අවශ්‍යතා වලට සාපේක්ෂව සම්පත් හිඟවීම සහ සම්පත් විකල්ප අයුරින් භාවිත කළ හැකි වීම
4. කිසියම් භාණ්ඩ හා සේවා ප්‍රමාණයක් විවිධ නිෂ්පාදන සාධක සංයෝග යොදා ගෙන නිපදවීමට හැකිවීම
5. එක් අවශ්‍යතාවන් ඉටුකළ හැකි භාණ්ඩ රැසක් වෙළෙඳපොළේ පැවතීම

meyeos, s lsrSu

28) භූමි සාධකයට අයත් නොවන දෑ කුමක්ද?

- | | |
|-------------------------|---------------------------|
| 1. බණිප තෙල් නිධියක් | 4. දිය ඇල්ලක් |
| 2. උණු වතුර ජල බුබුලක් | 5. වැසි ජලය රැස්කරන වැවක් |
| 3. සිලිකා වැලි තට්ටුවක් | |

meyeos, s lsrSu

29) ආර්ථික විද්‍යා අර්ථකථනයට අනුව “ආර්ථික සම්පතක්” යන්න වඩාත් හොඳින් විස්තර කළ හැක්කේ,

1. පෞද්ගලික අංශය විසින් සපයන හිඟ සම්පතක් වශයෙනි
2. නිෂ්පාදන ක්‍රියාවලියේ දී ආධාර කරගනු ලබන ඕනෑම දෙයක් වශයෙනි
3. ප්‍රතිශ්ඨාපනය කළ නොහැකි සාපේක්‍ෂව හිඟ සම්පත් වශයෙනි
4. මිනිසුන් වුවමනා වලට සාපේක්‍ෂව ප්‍රමාණවත් සැපයුමක් නැති ධන ආවස්ථික පිරිවැයක් සහිත භාණ්ඩයක් වශයෙනි
5. වැඩිවන ආවස්ථික පිරිවැයක් සහිත මිලක් නියම වී ඇති ස්වාභාවික සම්පතක් වශයෙනි

meyeos,s lsrSu

30) ආර්ථික සංසිද්ධියක් යනුවෙන් අදහස් වන්නේ,

1. විචල්‍යත් අතර සම්බන්ධතාවක් පැවතීම යි
2. ආර්ථික විචල්‍යයන් අතර අනුලෝම සම්බන්ධතාවක් පැවතීමයි
3. විචල්‍යත් අතර ප්‍රතිලෝම සම්බන්ධතාවක් පැවතීමයි
4. ආර්ථික විචල්‍යයක වෙනස්වීම යි
5. ආර්ථික විචල්‍යයන් අනපේක්ෂිත අයුරින් වෙනස්වීමයි

meyeos,s lsrSu

31) පහත ප්‍රකාශ අතුරින් “යථානුරූපී” ප්‍රකාශය තෝරන්න

1. රටක ජනගහනය අතර ආදායම සමානව බෙදී යා යුතුය
2. මෑතකාලයේදී බිත්තර මිල ඉහළ යාමේ ප්‍රවණතාවක් පවතී
3. රජයේ සුභසාධක වියදම්, අවශ්‍ය ජනකොටස් වෙන්ම ඉලක්ක විය යුතුය
4. ඇඟළුම් කර්මාන්තයේ දියුණුව සඳහා GPS + සහනය අත්‍යවශ්‍ය වේ

5. ග්‍රාමීය ආර්ථික සංවර්ධනය සඳහා මූලික වශයෙන් මාර්ග පද්ධතිය දියුණු කළ යුතුය

meyeos, s lsrSu

32) පහත ප්‍රකාශ අතුරින් අභිමතානුරූපී ප්‍රකාශය තෝරන්න.

1. ශ්‍රී ලංකාව තුළ සමෘද්ධි ප්‍රතිලාභ ලබන කුටුම්භ ප්‍රතිශතය 29.7% කි.
2. ගිගන් භාණ්ඩ සම්බන්ධයෙන් ඉල්ලුම් නීතිය ක්‍රියාත්මක නොවිය යුතුය.
3. ගොවීන් ආරක්‍ෂා කිරීමට සහතික මිල ප්‍රතිපත්තියක් අනුගමනය කළ යුතුය.
4. පාරිභෝජනයේ දී හිතවන ආන්තික උපයෝගීතාවක් දක්නට ලැබේ.
5. ශ්‍රී ලංකා රාජ්‍ය ආදායමට වැඩි දායකත්වයක් සපයන්නේ වතු බදු මගිනි.

meyeos, s lsrSu

33) ආර්ථික විද්‍යාවේ “කේන්ද්‍රීය ප්‍රශ්නය” ලෙස සැලකෙන්නේ,

1. සම්පත් හිමිකාරත්වය පිළිබඳ ගැටලුවයි.
2. පවත්නා සම්පත් බෙදා හැරීමේ ගැටලුවයි.
3. හිඟකම පිළිබඳ වූ ප්‍රශ්නයයි.
4. විකල්ප භාවිත හැකියාවන් සහිත වීමයි.
5. කුමන භාණ්ඩ නිපදවිය යුතුද යන්නයි.

meyeos, s lsrSu

34) සාවද්‍ය ප්‍රකාශය තෝරන්න.

1. ආර්ථික විද්‍යාව සුක්ෂම හා සාර්ව වශයෙන් කොටස් දෙකකට බෙදිය හැක.
2. ස්වභාවධර්මයෙන් ලැබී ඇති නිෂ්පාදනයට යොදා ගත හැකි සම්පත් ස්වභාවික සම්පත් වේ.
3. මිලක් ගෙවීමකින් තොරව ආර්ථික භාණ්ඩ පරිභෝජනය කළ නොහැක.
4. ආර්ථික භාණ්ඩ වෙළෙඳ පොළේ හුවමාරුවට ලක්වේ.
5. ස්වභාවික සම්පත්වල සැපයුම් තීරකයා ස්වභාව ධර්මයා වේ.

meyeos, s lsrSu

35) ප්‍ර

1. ප්‍රාග්ධන වත්කම ප්‍රතිසමපාදනයයි.
2. නිමැවුම් ධාරිතාව ස්ථාවරත්වය ආරක්ෂා කිරීමයි.
3. පරිභෝජන භාණ්ඩ නිෂ්පාදන හැකියාව ඉහළ යාමයි.
4. ආයෝජනයට සම්පත් සම්පාදනය කර ගැනීමයි.
5. ආර්ථිකය සතු ප්‍රාග්ධන තොගයට අළුතින් එකතු වීමයි.

meyeos, s lsrSu

36) යම් තේරීමක ආවස්ථික පිරිවැය වඩාත් නිවැරදිව නිරූපනය වන්නේ එය මූර්තමය වශයෙන් ගණනය කෙරේ නම් පමණක් යැයි පවසන්නේ මන්ද?

1. එමගින් නිපදවන භාණ්ඩයෙන් වැඩි වූ ප්‍රමාණය පෙන්වන නිසාය.
2. නිෂ්පාදන ප්‍රමාණයේ වෙනස හඳුනාගත හැකි බැවිනි.
3. එය මූල්‍යමය පිරිවැයෙන් වෙන්කොට හඳුනාගත යුතු සංකල්පයක් බැවිනි.
4. ආවස්ථික පිරිවැය මූල්‍ය අගයක් වන බැවිනි.
5. කැප කිරීමකින් තොරව තේරීමක් සිදුකළ නොහැකි බැවිනි.

meyeos, s lsrSu

37) ආර්ථිකයක් සතු නිෂ්පාදන සම්පත්, දේපොළ සම්පත් හා මානව සම්පත් ලෙස නිවැරදිව පිළිවෙලින් නිරූපනය වන්නේ,

1. ස්වභාවික සම්පත්, ප්‍රාග්ධන භාණ්ඩ සහ ශ්‍රමය, ව්‍යවසායකත්වය
2. භූමිය, ශ්‍රමය සහ ප්‍රාග්ධනය, ව්‍යවසායකත්වය
3. ප්‍රාග්ධන භාණ්ඩ, භූමිය සහ ශ්‍රමය, ස්වභාවික සම්පත්
4. ශ්‍රමය, ව්‍යවසායකත්වය සහ භූමිය, ප්‍රාග්ධනය
5. ප්‍රාග්ධන භාණ්ඩ, ව්‍යවසාය සහ ශ්‍රමය ඇතුළු මානව සම්පත්

meyeos, s lsrSu


38) සරල රේඛීය නිෂ්පාදන හැකියාවක් ඇසුරින් නිෂ්පාදනයේ, ආවස්ථික පිරිවැයක් පවත්නා බව හඳුනාගත හැක්කේ,

1. රේඛීය බෑවුම ස්ථාවර බැවිනි.
2. බෑවුම සෘණ අගයක් ගැනීම තුළිනි.
3. වක්‍රය දිගේ ඉහළට හා පහළට ගමන් කළ ද බෑවුම එකම අගයක් වන හෙයිනි.
4. ලක්ෂයෙන් ලක්ෂයට බෑවුම වෙනස් නොවන බැවිනි.
5. බෑවුම ධන අගයක් ගන්නා බැවිනි.

meyeos, s lsrSu

39) දෙන ලද අවස්ථාවක ආර්ථිකයට රූප සටහනේ A හා B ලක්ෂ මගින් දැක්වෙන ඕනෑම නිමැවුමක්,

1. නිපදවිය හැක, කාර්යක්ෂම වේ.



2. නිපදවිය නොහැක, අකාර්යක්ෂම වේ.
3. නිපදවිය හැක, කාර්යක්ෂමතාවය සමානය.
4. නිපදවිය හැක, කාර්යක්ෂමතාවය අසමානය.
5. නිපදවිය නොහැක, කාර්යක්ෂමතාවය අසමානය.

meyeos, s lsrSu

40) සහල් සහ රෙදි යන භාණ්ඩ වර්ග දෙක නිපදවන ආර්ථිකයක නිමැවුම් සංයෝග පෙලක් පහත දැක්වේ.

සහල් නිමැවුම (බුසල් මිලියන)	රෙදි නිමැවුම (මීටර මිලියන)
0	600
100	500
200	300
300	0

මෙම ආර්ථිකය දැනට සහල් බුසල් 100 ක් සහ රෙදි මීටර මිලියන 500 ක් නිපදවමින් සිටිනම් සහල් නිමැවුම තවත් බුසල් මිලියන 100 කින් වැඩි කිරීමේ ආන්තික ආවස්ථික පිරිවැය වන්නේ, රෙදි මීටර,

1. 200
2. 10
3. 2
4. 20
5. 300

meyeos, s lsrSu

41) නිෂ්පාදන හැකියා ආදර්ශය ගොඩනැගීමේ දී සම්පත් සම්භාරය ස්ථාවරව පවතී යැයි යන්න වඩාත් හොඳින් විස්තර වන්නේ,

1. සම්පත් පවත්නා ප්‍රමාණයට පවතින බවයි.
2. සම්පත් විනාශයට පත් නොවන බවයි.
3. සම්පත් වල පැවතිය යුතු ධාරිතා මට්ටමක් පවත්නා බවයි.

4. පවත්නා සම්පත් ප්‍රමාණාත්මකව හා ගුණාත්මකව වෙනස් නොවන බවයි.
5. භූමිය, ශ්‍රමය, ප්‍රාග්ධනය සහ ව්‍යවසාය යන සම්පත් ප්‍රමාණය අඩු හෝ වැඩි නොවන බවයි.

meyeos, s lsrSu

.....

.....

.....

.....

.....

42) මූලයට අවතල නිෂ්පාදන හැකියා වක්‍රයක් සම්බන්ධයෙන් අදාළ වන ප්‍රකාශය

1. එක් භාණ්ඩයක නිමැවුම වැඩි කළ හැක්කේ අනෙක් භාණ්ඩයේ නිමැවුම අඩු කිරීමෙන් පමණි.
2. භාණ්ඩ වර්ග දෙකෙන් කුමන භාණ්ඩයේ නිෂ්පාදනය වැඩි කළ ද ආවස්ථික පිරිවැයක් පවතී.
3. එක් භාණ්ඩයක නිමැවුම වැඩි කිරීමේ දී අනෙක් භාණ්ඩයේ අත් හැරීමට සිදු වන ප්‍රමාණය වැඩි වීමයි.
4. වක්‍රයේ බෑවුම මගින් ආවස්ථික පිරිවැය පෙන්වයි.
5. වක්‍රය මත වූ ලක්ෂයන් අතර තේරීම් ක්‍රමයේ දී ආවස්ථික පිරිවැයක් හටගනී.

meyeos, s lsrSu

.....

.....

.....

.....

.....

43) නිෂ්පාදන හැකියා වක්‍රයක් සම්බන්ධයෙන් අදාළ නොවන ප්‍රකාශය වන්නේ,

1. තේරීමේ ගැටළුව සාකච්ඡා කළ හැක.
2. ආවස්ථික පිරිවැය සංකල්පය හඳුනාගත හැක.
3. ආර්ථිකයේ විභව නිෂ්පාදන ශක්‍යතාව පෙන්වයි.
4. නිෂ්පාදන සාධකයන්හි ඵලදායීතාව වෙන් වෙන්ව පෙන්වයි.
5. ලබාගත හැකි විකල්ප සංයෝග දක්වයි.

meyeos, s lsrSu

.....

.....

.....

.....

.....

44) ආර්ථික පද්ධතියක තීරණය කරනු ලබන ප්‍රධාන ඒකක දැක්වෙන ප්‍රකාශය,

1. කුටුම්භ, ව්‍යාපාරික අංශ හා විදේශ අංශය
2. කුටුම්භ, ව්‍යාපාරික අංශය, රජය හා විදේශ අංශය
3. ව්‍යාපාරික ආයතන, ආණ්ඩුව, බැංකු
4. ආණ්ඩුව හා සමුපකාර ව්‍යාපාර
5. ආණ්ඩුව, සීමිත සමාගම් හා රාජ්‍ය නොවන සංවිධාන

meyes, s lsrSu

45) මූර්ත පොලී අනුපාතිකය ලබා ගැනීමට,

1. නාමික පොලී අනුපාතිකයෙන් පොදු මිල මට්ටම වෙනස් වූ ප්‍රතිශතය අඩු කළ යුතුය.
2. නාමික පොලී අනුපාතිකය උද්ධමන අනුපාතිකයට එකතු කළ යුතුය.
3. නාමික පොලිය උද්ධමන අනුපාතිකයෙන් බෙදිය යුතුය.
4. මුදල් පොලිය මිල දර්ශකයෙන් වැඩි කළ යුතුය.
5. නාමික පොලිය තොග මිල දර්ශකයෙන් බෙදිය යුතුය.

meyes, s lsrSu

46) උපයෝගීතාවය පිළිබඳ සත්‍ය ප්‍රකාශය කුමක්ද?

1. නිෂ්පාදකයෙකුගේ අරමුණ පරිභෝජනයෙන් උපයෝගීතාවය උපරිම කිරීමයි.
2. පරිභෝජන ඒකක වැඩි කිරීමෙන් මුළු උපයෝගීතාවයට එකතුකරන ප්‍රමාණය ක්‍රමයෙන් වැඩිවේ.

3. ආන්තික උපයෝගීතාවය ගණනය කරනු ලබන්නේ මුළු උපයෝගීතාවයේ වෙනස්වීම පරිභෝජන ඒකක වෙනසින් බෙදීමෙනි.
4. හීනවන ආන්තික උපයෝගීතාවය යනු කල්ගතවීමෙන් අඩු වී යන උපයෝගීතාවයයි.
5. පාරිභෝගිකයෙකු භාණ්ඩයක් මිලදී ගන්නේ භාණ්ඩය සඳහා වැය කරන මුදලට වඩා වැඩි උපයෝගීතාවයක් ලැබේ නම් පමණි.

meyeos, s lsrSu

47)

1. මුදල් මිනිසා විසින් නිපදවන නිෂ්පාදන ආධාරකයන් නොවන බැවිනි
2. භාණ්ඩ හා සේවා නිෂ්පාදනයට සෘජුවම දායක වන බැවිනි
3. භාණ්ඩ හා සේවා නිෂ්පාදනයට වක්‍රව දායක වන බැවිනි
4. ප්‍රාග්ධන වත්කම් මෙන් මුදල් ක්ෂය වීමට ලක් නොවන බැවිනි
5. මුදල් මහ බැංකුව විසින් නිකුත් කරන බැවිනි

meyeos, s lsrSu

48) වෙළෙඳපොළ ආර්ථිකයක මිලෙහි කාර්යභාරයක් නොවන්නේ,

1. නිෂ්පාදකයින්ට වෙළෙඳපොළ පිළිබඳ තොරතුරු සැපයීම
2. සාධක හිමියන්ට වෙළෙඳපොළ පිළිබඳ තොරතුරු සැපයීම
3. ව්‍යාපාරිකයන්ට ලාභ උපරිමය පිළිබඳ සානුබල සැපයීම
4. හිඟ සම්පත් කාර්යක්ෂම අයුරින් සලාකනය කිරීම
5. පොදු භාණ්ඩ නිපදවීමට අවශ්‍ය අනුබල සැපයීම

meyeos, s lsrSu

49) ආර්ථික වර්ධනය වඩාත් හොඳින් නිර්වචනය කෙරෙන්නේ කවර ප්‍රකාශයෙන්ද?

1. ආර්ථික භාණ්ඩ වල ප්‍රමාණාත්මක වර්ධනය ආර්ථික වර්ධනය වේ.
2. නිෂ්චිත කාලයක් තුළ දළදේශීය නිෂ්පාදිතයේ සිදුවන අඛණ්ඩ වර්ධනය ආර්ථික වර්ධනයයි.
3. ජනතාවගේ මූලික පෝෂණ අවශ්‍යතා ඉටුවීම ආර්ථික වර්ධනය වේ.
4. පරිසරයට හිතකාමී තිරසාර සංවර්ධනය ආර්ථික වර්ධනය නම් වේ.
5. වැඩිකළ හැකි සියලුම දෙනා වැඩෙහි යෙදවීම ආර්ථික වර්ධනය නම් වේ.

meyeos, s lsrSu

50) නිෂ්පාදන සාධක පිළිබඳ සත්‍ය ප්‍රකාශය කුමක්ද?

1. ආර්ථිකයේ නිෂ්පාදන සාධක හිමි අංශය ලෙස සැලකෙන්නේ ව්‍යාපාරික අංශයයි.
2. ශ්‍රමිකයා අරමුණු කොටගත් ආයෝජන තුළින් මානව ප්‍රාග්ධනය වර්ධනය කළ හැකිය.
3. නිෂ්පාදන ක්‍රියාවලියෙහි යොදවන ප්‍රාග්ධන භාණ්ඩ අන්තර් භාණ්ඩ ලෙස හැඳින්වේ.
4. පුද්ගල ඉතුරුම් වැඩි කිරීමෙන් පමණක් ප්‍රාග්ධන ස්කන්ධය වැඩිකළ හැකිය.
5. ව්‍යවසායකත්වය යනුවෙන් අදහස් කරන්නේ නවෝත්පාදන බිහිකිරීමයි.

meyeos, s lsrSu

51) ආර්ථික කාර්යක්ෂමතාවය පිළිබඳ සත්‍ය ප්‍රකාශය කුමක්ද?

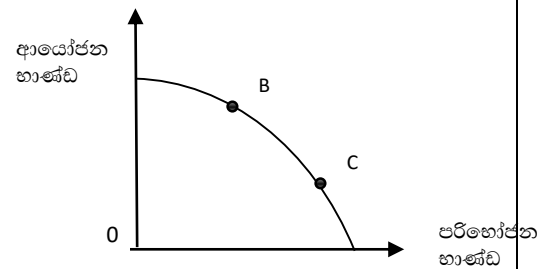
1. නිෂ්පාදන හැකියා මායිමක් ඇතුළත ලක්ෂයකින් කාර්යක්ෂමතාවය දැක්විය හැකිය.

2. කාර්යක්ෂමතාවයේදී ආර්ථිකයක් එක් භාණ්ඩයක් වෙනුවෙන් අනෙක් භාණ්ඩය කැපකළ යුතුමය.
3. නිෂ්පාදනයේ කාර්යක්ෂමතාවය ආර්ථිකයේ කාර්යක්ෂමතාවය සඳහා අවශ්‍ය නොවේ.
4. කාර්යක්ෂම සෑම භාණ්ඩ සංයෝගයක්ම ප්‍රසස්ථ භාණ්ඩ සංයෝගයක් ද වේ.
5. ආර්ථික කාර්යක්ෂමතාවයෙන් යෙදවුමට සමාන නිමැවුමක් අපේක්ෂා කෙරේ.

meyeos, s lsrSu

52) ආයෝජන භාණ්ඩ හා පරිභෝජන භාණ්ඩ නිපදවන ආර්ථිකයක නිෂ්පාදන හැකියා වක්‍රයක් පහත දැක්වේ.
 B සිට C දක්වා නිමැවුම් මට්ටම වෙනස් කරන්නේ නම් වර්තමාන හා අනාගත ජීවන තත්ත්වයට සිදුකරන බලපෑම හඳුනා ගන්න.

	වර්තමාන ජීවන තත්ත්වය	අනාගත ජීවන තත්ත්වය
1.	අඩුවේ	අඩුවේ
2.	අඩුවේ	වැඩිවේ
3.	වැඩිවේ	අඩුවේ
4.	වැඩිවේ	වැඩිවේ
5.	වැඩිවේ	වෙනසක් නොවේ



meyeos, s lsrSu

- 53) "වැඩිවන ආවස්ථික පිරිවැය නීතිය" පිළිබඳ සත්‍ය ප්‍රකාශය හඳුනාගන්න.
1. එක් භාණ්ඩයක් නිපදවීම සඳහා අනෙක් භාණ්ඩය කැපකළ යුතු බව මෙයින් අර්ථවත් වේ.
 2. වැඩිවන ආවස්ථික පිරිවැය නීතිය මූලයට අවතල හැකියා වක්‍රයකින් පැහැදිලි කෙරේ.
 3. මහා පරිමාණ නිෂ්පාදන පිරිමැසුම් ඇති කර්මාන්තයකට පමණක් එය අදාළ වේ.
 4. සාධක සමජාතීය වීම හා සාධක සංයෝග අනුපාත ස්ථාවර නොවීම මෙම නීතියට හේතුවයි.
 5. අදාළ නිෂ්පාදන හැකියා වක්‍රය වමේ සිට දකුණට පහළ බසින සරල රේඛාවකි.

meyeos, s lsrSu

54) නිෂ්පාදන හැකියා මායිමක් ගොඩනැගීමේ දී කරනු ලබන උපකල්පනයක් නොවන්නේ කුමක්ද?

1. අදාළ ආර්ථිකය භාණ්ඩ දෙකක් පමණක් නිපදවන සරල ආර්ථිකයකි.
2. පවත්නා සියළුම සම්පත් පූර්ණ වශයෙන් නිෂ්පාදනයට යොදා ගනී.
3. නිෂ්පාදන සම්පත්වල විකල්ප ප්‍රයෝජන දක්නට නැත.
4. පවත්නා තාක්ෂණය සම්බන්ධයෙන් හා ගුණයෙන් වෙනස් නොවේ.

5

meyeos, s lsrSu

55) නිෂ්පාදන හැකියා මායිමක ස්වරූපය නිවැරදිව අර්ථ දැක්වෙන්නේ කවර ප්‍රකාශයන්ද?

1. එක් භාණ්ඩයක නිමැවුම වැඩි කිරීමේ දී අනෙක් භාණ්ඩයෙන් කැපකළ යුතු ප්‍රමාණය ක්‍රමයෙන් වැඩිවේ නම් දක්නට ලැබෙන්නේ මූලයට අවතල හැකියා වක්‍රයකි.
2. මහා පරිමාණ නිෂ්පාදන පිරිමැසුම් ඇති කර්මාන්තයක භාණ්ඩයක් වෙනුවෙන් අනෙක් භාණ්ඩයෙන් කැප කරන ප්‍රමාණය සමාන නිසා වක්‍රය සරල රේඛාවක් ලෙස පිහිටයි.
3. සාධක සමජාතීය වීමත්, සාධක සංයෝග අනුපාත ස්ථාවර වීමත් නිසා ස්ථාවර ආවස්ථික පිරිවැය මූලයට අවතලව පිහිටයි.
4. නිෂ්පාදන හැකියා මායිමක් ඇතුළත සම්පත් කැපකිරීමක් නැති බැවින් ආවස්ථික පිරිවැය ශුන්‍ය අගයක් ගනී.
5. මිශ්‍ර ආවස්ථික පිරිවැය වක්‍රයක් වඩාත් අර්ථවත් ආර්ථිකමය විග්‍රහයක් බවට මතයක් ඇත.

meyeos, s lsrSu

56) ආර්ථික විද්‍යා අධ්‍යයනයන් පිළිබඳ නිවැරදි ප්‍රකාශය කුමක්ද?

1. තනි ආර්ථික විචල්‍යයන් පිළිබඳ අධ්‍යයනය සාර්ව ආර්ථික විද්‍යාවෙන් සිදුවේ.
2. සමස්ත ආර්ථික විචල්‍යයන් පිළිබඳ අධ්‍යයනය සුක්ෂම ආර්ථික විද්‍යාවෙන් සිදුවේ.
3. ආර්ථිකයේ සාමාන්‍ය භාණ්ඩ හා සේවා මිල මට්ටම සාර්ව ආර්ථික විචල්‍යයකි.
4. ජාතික නිෂ්පාදනය පිළිබඳ අධ්‍යයනය සුක්ෂම ආර්ථික විද්‍යා අධ්‍යයනයකි.
5. ආර්ථික පුරෝකථනයන් සඳහා මෙම අධ්‍යයනයන් දෙකම ඉවහල් කර නොගැනේ.

meyeos, s lsrSu

57) අ

- | | |
|--------------------------|-------------------------|
| 1. ස්වභාවික වනාන්තරයක් | 4. කරදිය මත්ස්‍ය සම්පත් |
| 2. නිරිතදිග මෝසම් වර්ෂාව | 5. ෆොස්පේට් නිධියක් |
| 3. බනිජ තෙල් පිරිපහදුව | |

meyeos, s lsrSu

58) පාරිභෝජන භාණ්ඩයක අමුද්‍රව්‍ය තොගයක් අයත්වන නිෂ්පාදන සාධකය හඳුනා ගන්න.

- | | |
|---------------------------------|--------------------------|
| 1. සමාජ පොදු කාර්ය ප්‍රාග්ධනය | 4. පොදු කාර්ය ප්‍රාග්ධනය |
| 2. සංසරණ ප්‍රාග්ධනය | 5. සමාජ ප්‍රාග්ධනය |
| 3. ආර්ථික පොදු කාර්ය ප්‍රාග්ධනය | |

meyeos, s lsrSu

59) නිෂ්පාදන හැකියා මායිම් වක්‍රයේ හැඩය තීරණය වන්නේ,

1. ආවස්ථික පිරිවැය වැඩි වන ආකාරය අනුවය
2. ආවස්ථික පිරිවැය අනුපාතය හැසිරෙන ආකාරය අනුවය
3. ආවස්ථික පිරිවැය අඩුවන ආකාරය අනුවය
4. ආවස්ථික පිරිවැය ශුන්‍ය අගයක් ගන්නා විටකදීය
5. එක් භාණ්ඩයක් නිපදවනවිට තවත් භාණ්ඩයක් කැප කිරීම අනුවය

meyeos, s lsrSu

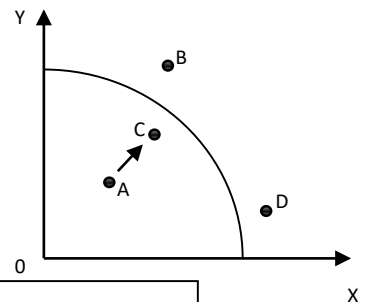
60) නිෂ්පාදන හැකියා මායිම දකුණට වැරදි කළ හැක සාධකය වන්නේ,

1. සම්පත් උගත උපයෝජනයක සිට භාණ්ඩ දෙකේම නිමැවුම වැඩි කිරීම
2. සම්පත් උගත උපයෝජනයක සිට භාණ්ඩයක පමණක් නිමැවුම වැඩි කිරීම
3. එක් කර්මාන්තයක මානව ප්‍රාග්ධනය ඉහළ නැංවීම
4. කර්මාන්ත දෙකේම නව තාක්ෂණ ශිල්පීය ක්‍රම අනුගමනය කිරීම
5. කර්මාන්ත දෙකෙහිම සේවා නියුක්තියේ ඉහළ යාමක්

meyeos, s lsrSu

61) මෙම නිෂ්පාදන හැකියා මායිම් වක්‍රය ආශ්‍රිත සේවා නියුක්තිය ඉහළ යාම පිළිබඳ සත්‍ය වන්නේ,

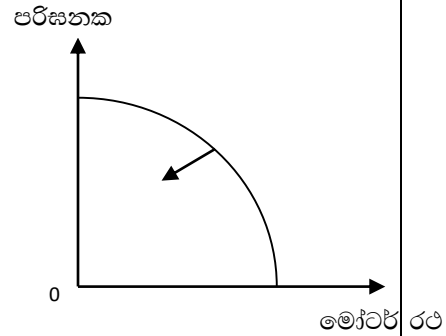
1. AB, X නිෂ්පාදනය ඉහළ යයි
2. AD, Y නිෂ්පාදනය ඉහළ යයි
3. AC, X හා Y නිෂ්පාදනය ඉහළ යයි
4. AC, X නිමැවුම ඉහළ යයි
5. AC, Y නිමැවුම ඉහළ යයි



meyeos, s lsrSu

62) නිෂ්පාදන හැකියා මායිම් වක්‍රයෙන් දැක්වෙන්නේ,

1. පරිගණක නිෂ්පාදනයේ සේවා නියුක්තිය පහළ වැටීමක්
2. මෝටර් රථ නිෂ්පාදනයේ උගත සේවා නියුක්තියක්
3. පරිගණක හා මෝටර් රථ නිෂ්පාදනයේ උගත සේවා නියුක්තියක්
4. පරිගණක නිෂ්පාදන තාක්ෂණය පිරිහීමක්
5. ආර්ථික පරිහානි තත්ත්වයක් ඇති වීම



meyeos, s lsrSu

63) සමස්ත ආර්ථික විචල්‍ය සමහර ලෙස සලකා බැලීම,

- | | |
|-----------------------------|-------------------------------|
| 1. සුක්ෂම ආර්ථික විද්‍යාවයි | 4. ගතික ආර්ථික විග්‍රහයයි |
| 2. සාර්ව ආර්ථික විචල්‍යයි | 5. වාස්තවික ආර්ථික විද්‍යාවයි |
| 3. ස්ථතික ආර්ථික විග්‍රහයයි | |

meyeos, s lsrSu

64) සාර්ව ආර්ථික විචල්‍යයක් වන්නේ මින් කුමක්ද?

- | | |
|--------------------|----------------------|
| 1. කුටුම්භයක ආදායම | 4. සීනි කිලෝ එකක මිල |
| 2. ආයතනයක සැපයුම | 5. සමාහාර ඉල්ලුම |

3. කුටුම්භයක ඉල්ලුම

meyeos, s lsrSu

65) මූලයට අවතලව නිෂ්පාදන හැකියා වක්‍රයක් උපකල්පනය කරන්න. එවැනි වක්‍රයක් දිගේ පහළට ගමන් කිරීමකින් කුමක් දැක්වේද? වඩාත්ම නිවැරදි පිළිතුර දක්වන්න.

1. එක් භාණ්ඩයක නිෂ්පාදනය අඩු වීමක් සහ අනෙක් භාණ්ඩයේ නිෂ්පාදන වැඩි වීමක්
2. කිසියම් සම්පත් ප්‍රමාණයකින් විකල්ප භාණ්ඩ සංයෝග නිපදවිය හැකි බව
3. නිෂ්පාදනයේ ආවස්ථික පිරිවැයක් පවතින බව
4. එක් භාණ්ඩයකින් වැඩිපුර ඒකකයක් නිපදවීමේ දී අනෙක් භාණ්ඩයෙන් කැපකළ යුතු ඒකක ගණන වැඩි වන බව
5. ආවස්ථික පිරිවැය ස්ථාවර බව

meyeos, s lsrSu

66) නිෂ්පාදන හැකියා මායිමක් X අක්ෂයෙන් පමණක් දකුණට විතැන්වූයේ යැයි සිතන්න. එවැනි විතැන්වීමක් සිදුවිය හැකි සාධකය හඳුනාගන්න.

1. X සඳහා වෙළෙඳපොළ ඉල්ලුම ඉහළ යාම
2. X කර්මාන්තයේ භාවිතා වන යෙදවුම්වල පිරිවැය අඩුවීම
3. X කර්මාන්තය වැඩි දියුණු කළ තාක්ෂණයක් යොදාගැනීම
4. Y කර්මාන්තයේ වැඩි දියුණු කළ තාක්ෂණයක් යොදාගැනීම
5. X හා Y කර්මාන්ත වැඩි දියුණු කළ තාක්ෂණයක් යොදා ගැනීම

meyeos, s lsrSu

67) නිෂ්පාදන හැකියා මායිම් වක්‍රය මත පිහිටි ලක්ෂ්‍යයන් පෙන්නුම් කරන්නේ,

1. සේවා විප්ලවීය තත්ත්වයකි
2. ආර්ථික වෘද්ධියකි
3. උපරිම කාර්යක්ෂමතාවකි
4. අකාර්යක්ෂමතාවකි
5. විදේශ වෙළෙඳාමේ ප්‍රයෝජනයකි

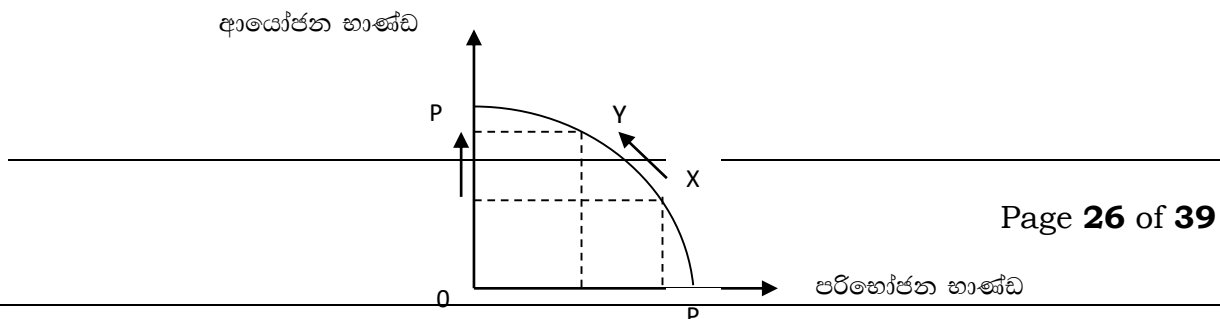
meyeros, s lsrSu

68) නිෂ්පාදනයක ආර්ථික කාර්යක්ෂමතාව නිර්වචනය කිරීමට අදාළ ප්‍රකාශයකි.

1. සෑම ආයතනයක්ම ලාභ උපරිම කිරීම.
2. සියලු සාධක සේවා නියුක්ත කිරීම.
3. සෑම ආයතනයක්ම ඉතාමත් දියුණු තාක්ෂණ ක්‍රම යොදාගැනීම.
4. ශ්‍රමය වෙනුවෙන් ප්‍රාග්ධනය ආදේශ කිරීමට තවදුරටත් ඉඩකඩ නොමැතිවීම.
5. වෙනත් භාණ්ඩයක නිෂ්පාදනය අඩු නොකර තවත් භාණ්ඩයක නිෂ්පාදනය වැඩි කළ නොහැකි වීම.

meyeros, s lsrSu

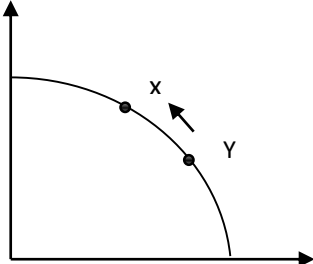
69) ආර්ථිකයක නිෂ්පාදන හැකියා වක්‍රය PP වලින් දැක්වේ.



1. සම්පත් පූර්ණ උපයෝජනය
2. සම්පත් බෙදා හැරීමේ ඉහළ කාර්යක්ෂමතාවය
3. අනාගත ආර්ථික වෘද්ධි අනුපාතයේ සිසු වැඩිවීමක්
4. අනාගත පරිභෝජනයට සාපේක්ෂව වර්තමාන පරිභෝජනය ඉහළ යාම
5. පාරිභෝගික භාණ්ඩ කර්මාන්තය තුළ සේවා විප්ලවය ඉහළ යාම

meyeos, s lsrSu

70) නිරිඟු (ඒකක)



නිරිඟු සහ සහල් ≤ 0 බවක් නිපදවන ආර්ථිකයක දී වක්‍රය ඉහත රූප සටහනේ දැක්වේ. මෙහිදී සත්‍ය ප්‍රකාශය වන්නේ,

1. ජනතාවගේ කැමැත්ත සහල්වල සිට නිරිඟු වලටය
2. X ලක්ෂ්‍යයේ දී නිරිඟු නිෂ්පාදනය අඩු කරන්නේ නොමැතිව සහල් නිෂ්පාදනය වැඩි කළ හැක.
3. අතිරේක නිරිඟු ඒකකයක් නිපදවීමේ ආවස්ථික පිරිවැය Y ලක්ෂ්‍යයේ දී ට වඩා X ලක්ෂ්‍යයේ දී වැඩිය.
4. නිරිඟුවල වැඩෙන ආවස්ථික පිරිවැය හා සහල්වල හිතවන ආවස්ථික පිරිවැය
5. භාණ්ඩ දෙකෙහිම හිතවන ආවස්ථික පිරිවැයක් ඇත

meyeos, s lsrSu

71) සම්පත් හිඟකම පෙන්වුම් කරන්නේ,

1. නිෂ්පාදන හැකියා මායිම් වක්‍රය මත ලක්ෂයකිනි
2. නිෂ්පාදන හැකියා මායිම් වක්‍රයේ අභ්‍යන්තරයේ පිහිටි ලක්ෂකිනි
3. වක්‍රය මත පිහිටි එක් ලක්ෂයක සිට වක්‍රය මත පිහිටි තවත් ලක්ෂයකට ගමන් කිරීමෙන්
4. නිෂ්පාදන හැකියා මායිම් වක්‍රයට පිටතින් පිහිටි ලක්ෂයකිනි
5. නිෂ්පාදන හැකියා මායිම් වක්‍රයේ බැවුමෙනි

meyeos, s lsrSu

72) සමාජ ප්‍රාග්ධනය සම්බන්ධයෙන් නිවැරදි පිළිතුර වනුයේ,

1. මිනිසුන් විසින් නිපදවන ලද නිෂ්පාදන ආධාරක වේ
2. දේශීයව නිපදවන ලද ප්‍රාග්ධන භාණ්ඩ වේ
3. පෞද්ගලික අරමුණු වෙනුවෙන් පිහිටුවාගෙන ඇත
4. පොදු අරමුණු ඉටුකර ගැනීම මෙහි අරමුණු වේ
5. මිනිසුන්ගේ ආර්ථික හැසිරීම් අධ්‍යයනය කිරීමයි

meyeos, s lsrSu

73) මූර්ත වැටුප යනුවෙන් හඳුන්වනු ලබන්නේ,

- | | |
|------------------------------------|---------------------------------|
| 1. මුදලින් ලැබෙන වැටුප වේ | 4. මාසික දළ වැටුප වේ |
| 2. වාර්ෂික දළ වැටුප වේ | 5. නාමික වැටුපේ ක්‍රය ශක්තිය වේ |
| 3. පරිභෝජනය සඳහා වෙන් නොකරන කොටසයි | |

meyeos, s lsrSu

74) නිෂ්පාදන සාධකයක් වශයෙන් ශ්‍රමය ලෙස හඳුන්වන්නේ,

1. නිෂ්පාදන ක්‍රියාවලියට කය වෙහෙසීමයි
2. නිෂ්පාදන ක්‍රියාවලියට මනස වෙහෙසීමයි
3. ව්‍යායාම කිරීම ආර්ථික විද්‍යාවේ ශ්‍රමයට ඇතුළත් වේ
4. නිෂ්පාදන ක්‍රියාවලියට කය හා මනස වෙහෙසීමයි
5. දිනකට වැඩ කරන පැය ගණන ශ්‍රමය වේ

meyeos, s lsrSu

75) සෑම ආර්ථිකයකම ප්‍රධාන කාර්යය වන්නේ,

- | | |
|---|--------------------------|
| 1. ආර්ථික වර්ධනය වේගවත් කිරීමයි | 4. ඉතුරුම් වැඩි කිරීමයි |
| 2. සියළු දෙනාටම රැකියා ලබාදීමයි | 5. දිළිඳුකම පිටු දැකීමයි |
| 3. මිනිස් අවශ්‍යතා සපුරාලීමට අදාළ භාණ්ඩ හා සේවා ප්‍රවාහයන් බිහි කිරීමයි | |

meyeos, s lsrSu

76) ධන තෘප්තියක් (උපයෝගීතාවයක්) ලබා දෙන ඕනෑම දෙයක් ආර්ථික විද්‍යාවේ හඳුන්වනු ලබන්නේ,

- | | | |
|----------------------|-------------------------|-----------------------|
| 1. නිෂ්පාදන සාධක ලෙස | 3. නිෂ්පාදනය ලෙසය | 5. ආර්ථික සම්පත් ලෙසය |
| 2. භාණ්ඩ ලෙසය | 4. ආර්ථික භාණ්ඩයක් ලෙසය | |

meyeos, s lsrSu

77) පහත ඒවායින් සාර්ව ආර්ථික විද්‍යාත්මක මාතෘකාවක් වනුයේ,

1. මහජන බැංකුවේ ලාභය ඉහළ යෑම
2. මද්දුම මහතාගේ ඉතුරුම් වැඩිවීම
3. උද්ධමන අනුපාතය ඉහළ යාම
4. සීනි මිල ඉහළ යාම
5. ලංකාවේ බියර් මිල අඩුවීම

meyeos, s lsrSu

78) පහත ප්‍රකාශ අතුරින් නිවැරදිම ප්‍රකාශය කුමක්ද?

1. ආදායම සැමවිටම පරිභෝජනය කරයි
2. ආදායම් සැමවිටම ඉතිරි කරයි
3. ආදායමෙන් පරිභෝජනය සඳහා වෙන් නොකළ කොටස ඉතුරුම් වේ
4. ආයෝජනයට සම්පත් ලැබෙන්නේ ප්‍රාග්ධනය තුළිනි
5. ඉතුරුම් තුළින් ප්‍රාග්ධනය බිහි නොවේ

meyeos, s lsrSu

79) ඵලදායීතාවයේ තීරකයක් නොවන්නේ,

1. තාක්ෂණය
3. මානව ප්‍රාග්ධනය
5. ශ්‍රමය

2. ශ්‍රම විභජනය 4. කළමනාකරණය

meyeos, s lsrSu

80) ආර්ථික පද්ධතියක කාර්ය සාධනය ඇගයීම සඳහා යොදා ගැනෙන නිර්ණායක සම්බන්ධයෙන් නිවැරදි ප්‍රකාශය කුමක්ද?

- | | |
|-----------------------------|-------------------------|
| 1. පුර්ණ සේවා නියුක්තිය | 4. ආර්ථික කාර්යක්ෂමතාවය |
| 2. සාධාරණ ආදායම් ව්‍යාප්තිය | 5. ආර්ථික ස්ථායීතාවය |
| 3. ඉහත සඳහන් සියල්ලම | |

meyeos, s lsrSu

81) ආර්ථික විද්‍යාව පදනම් වී ඇත්තේ මිනිස් හැසිරීම් වල

- | | | |
|-------------------|---------------------|------------------|
| 1. ආගමික අංශයයි | 3. මානසික අංශයයි | 5. ආර්ථික අංශයයි |
| 2. දේශපාලන අංශයයි | 4. සංස්කෘතික අංශයයි | |

meyeos, s lsrSu

82) නිෂ්පාදන හැකියා මායිමේ උපරිම ලක්ෂය විස්තර කෙරෙන ප්‍රකාශය හඳුනා ගන්න.

1. නිෂ්පාදන හැකියා මායිම මත පිහිටි ලක්ෂයක්
2. වැඩිම ඵලදාව ලැබෙන අයුරින් සහ සමාජ වරනයට ගැලපෙන අයුරින් නිෂ්පාදනය කෙරෙන ලක්ෂයක්

3. මිනිසුන්ගේ අවශ්‍යතා ඉටුකරන පරිදි නිෂ්පාදනය කිරීම
4. අවම යෙදවුමකින් උපරිම නිමවුමක් ලබාගත හැකි ලක්ෂ්‍යක සඳහන් භාණ්ඩ සංයෝගය නිෂ්පාදනය කිරීම
5. නිෂ්පාදන හැකියා මායිම මත පිහිටි ලක්ෂ්‍යක නිපදවීම සහ සමාජ වරණයට ගැලපෙන පරිදි එම මායිම මත පිහිටි නිශ්චිත ලක්ෂ්‍යක සඳහන් භාණ්ඩ සංයෝග නිෂ්පාදනය කිරීම

meyeos, s lsrSu

83) නිෂ්පාදන හැකියා මායිමට ඇතුළත් පිහිටි ලක්ෂ්‍යක

1. සේවා වියුක්තිය සම්පත් කිසියම් ප්‍රමාණයක් පවතින බව හඟවයි
2. අත්කර ගැනීම අපහසු වේ
3. නිෂ්පාදන හැකියා වක්‍රය මත පිහිටි ලක්ෂ්‍යයන්ට වඩා යහපත් වේ
4. සම්පත් පූර්ණ වශයෙන් සේවා නියුක්ත බව හඟවයි
5. ආවස්ථික පිරිවැය පිළිබඳ අදහස පෙන්වුම් කරයි

meyeos, s lsrSu

84) අ

- | | |
|--------------------------------|-----------------------------------|
| 1. සාර්ව ආර්ථික විශ්ලේෂණයයි | 4. අභිමතානුරූපී ආර්ථික විද්‍යාවයි |
| 2. වාස්තවික ආර්ථික විද්‍යාවයි | 5. සුක්ෂම ආර්ථික විශ්ලේෂණයයි |
| 3. යථානුරූපී ආර්ථික විද්‍යාවයි | |

meyeos, s lsrSu

85) සමාජයක මූලික ආර්ථික ප්‍රශ්නයක් වශයෙන් කා සඳහා නිපැයවේද යන්නෙන් කුමක් අදහස්වේද?,

1. නිෂ්පාදනය පිළිබඳ තීරණ ගැනීමේ දී නිෂ්පාදකයෙකු ඉලක්ක කර ගන්නා පාරිභෝගික කණ්ඩායම
2. නිපදවන්නේ අපනයන සඳහා ද නැතහොත් දේශීය වෙළෙඳ පොළ සඳහා ද
3. නිපදවන්නේ පරිභෝජනය සඳහාද නැතහොත් ආයෝජනය සඳහා ද
4. ආර්ථිකයේ නිමැවුම කුටුම්භ අතර බෙදී යන්නේ කෙසේද?
5. ආර්ථිකයේ සම්පත් සම්භාරය බෙදා වෙන්කරන්නේ කෙසේද?

meyeos, s lsrSu

86) සැලසුම්ගත ආර්ථික ක්‍රමයක කුමක් නිෂ්පාදනය කළ යුතුද යන ආර්ථික ප්‍රශ්න තීරණය වන්නේ,

1. ව්‍යවසායකයින්ගේ ස්වාධීන තීරණ මගිනි
2. පාරිභෝගිකයන් සහ රජය ඒකාබද්ධව ගනු ලබන තීරණ මගිනි
3. වෙළෙඳපොළ සහ රජය යන අංශ දෙකේම මැදිහත් වීමෙනි
4. රජය විසින් දෙනු බලන නියෝග මගිනි
5. පාරිභෝගිකයන්ගේ වියදම් තීරණ මගිනි3

meyeos, s lsrSu

87) ඕනෑම ආර්ථිකයක මධ්‍යගත ප්‍රශ්නයක් වන්නේ,

1. ආදායම හා ධනය සාධාරණව බෙදා හරින්නේ කෙසේද යන්න
2. සම්පත් පූර්ණ ලෙස උපයෝජනය කරන්නේ කෙසේද යන්න
3. තරඟකාරී ප්‍රයෝජනයන් අතර සම්පත් බෙදාහරින්නේ කෙසේද යන්න
4. සාධාරණත්වය හා කාර්යක්ෂමතාව අතර සට්ටනය විසඳන්නේ කෙසේද යන්න
5. පූර්ණ සේවා නියුක්තිය හා මිල ස්ථායීතාව අතර සට්ටනය විසඳන්නේ කෙසේද යන්න

meyeos, s lsrSu

88) වෙළෙඳපොළ ආර්ථිකයක තරඟකාරීත්වය තහවුරු වීම පිණිස ඉටුවිය යුතු ප්‍රධාන කොන්දේසිය වන්නේ,

- | | |
|--------------------------------------|------------------------------------|
| 1. කතිපයාධිකාරී ආයතන ක්‍රියාත්මක වීම | 4. පාරිභෝගික ස්වාධිපත්‍යයක් පැවතීම |
| 2. මිල ක්‍රමයක් පැවතීම | 5. ස්චාර්ථය පිණිස කටයුතු කිරීම |
| 3. අබාධ ප්‍රවේශය හා පිටවීම | |

meyeos, s lsrSu

89) වෙළෙඳපොළ ආර්ථිකයක නිපද වූ භාණ්ඩ මිලදී ගන්නේ කවුරුන් විසින් ද යන ආර්ථික ප්‍රශ්නය මූලික වශයෙන් විසඳනු ලබන්නේ,

1. එක් එක් පාරිභෝගිකයාගේ අවශ්‍යතා අනුව ඔවුන්ගේ ආදායම බෙදාහැරීම තුළින්
2. ආණ්ඩුවේ සලාක කිරීම් මත
3. පාරිභෝගිකයින් තමන්ට අවශ්‍ය භාණ්ඩ ඉල්ලුම් කිරීමෙන් හා අනවශ්‍ය භාණ්ඩ ප්‍රතික්ෂේප කිරීමෙන්
4. නිෂ්පාදන ආයතන සාධක සේවා මිලදී ගැනීමට කරන වියදම් ඒවායේ හිමිකරුවන් වෙත ලැබෙන අතර ඔවුන් එමඟින් භාණ්ඩ මිල දී ගනී.
5. පාරිභෝගිකයෝ පාරිභෝගික භාණ්ඩ ද නිෂ්පාදකයෝ නිෂ්පාදක භාණ්ඩ ද මිලට ගැනීමෙන්

meyeos, s lsrSu

90) කිසියම් ආර්ථිකයක් පෞද්ගලික හා පොදු භාණ්ඩ දෙවර්ගයම නිපදවන බව සිතන්න. නිෂ්පාදන හැකියා වක්‍රය මත ලක්ෂ්‍යය එම ආර්ථික ක්‍රමය ක්‍රියාත්මක වන විට නිෂ්පාදනය කරනු ලබන පොදු භාණ්ඩ ප්‍රමාණය වැඩි කළ හොත්,

1. පෞද්ගලික භාණ්ඩ සැපයුමට කිසිදු බලපෑමක් සිදු නොවේ
2. පෞද්ගලික භාණ්ඩ වල ආවස්ථික පිරිවැය වැඩි වේ
3. පොදු භාණ්ඩ තරඟකාරී නොවන බැවින් මුළු භාණ්ඩ නිෂ්පාදනය වැඩි වේ
4. පෞද්ගලික භාණ්ඩ නිෂ්පාදනය පහළ වැටීමක් සිදු වේ
5. නිෂ්පාදන හැකියා මායිම් වක්‍රය වමට විතැන් වේ

meyeos, s lsrSu

91) විධාන ආර්ථිකයක් සම්බන්ධයෙන් දැකිය හැකි ලක්ෂණයක් වන්නේ,

1. ආණ්ඩුවේ ඉහළ මැදිහත් වීම
2. වෙළෙඳපොළ බලවේග වලට ඉඩ හැරීම
3. පෞද්ගලික ව්‍යාපාර ආයතන විසින් තීරණ ගැනීම
4. අතීතයේ සිදු වූ ආකාරයටම වර්තමානයේ දී නිෂ්පාදනය සිදු කිරීම
5. ව්‍යාපාර ආයතන විසින් ස්වාධීනව තීරණ ගැනීම

meyeos, s lsrSu

92) වෙළෙඳ පොළ ආර්ථිකයක් තුළ පාරිභෝගික ස්වාධිපත්‍යයක් බිහිවිය හැක්කේ,

1. වෙළෙඳ පොළ සමතුලිත තත්වයට පත්වන විටදීය
2. වෙළෙඳපොළෙහි මිල ගණන් මත හුවමාරු සිදුවන විටදීය
3. පාරිභෝගික වරණය මත කුමක් නිපදවිය යුතුද යන්න තීරණය වන විට දීය
4. වෙළෙඳපොළෙහි භාණ්ඩය පිළිබඳ ප්‍රචාරණයක් නොමැති විට දී ය
5. අතිවිශාල පාරිභෝගික සංඛ්‍යාවක් සිටින විටදීය

meyeos, s lsrSu

93) ලාභය වෙළෙඳපොළ ආර්ථිකයක ආණ්ඩුවේ කාර්යක් නොවන්නේ,

- | | |
|---|---------------------------------------|
| 1. නීති පද්ධතිය සකස් කිරීම | 4. නිෂ්පාදන ක්‍රියාවලිය සැලසුම් කිරීම |
| 2. ආදායම් බෙදීමේ විෂමතා අවම කිරීම | 5. පොදු භාණ්ඩ සැපයීම |
| 3. සම්පත් බෙදීමේ කාර්යක්ෂමතාව ඉහළ දැමීම | |

meyeos, s lsrSu

94)

- | | | |
|------------------------|--------------|-------------------|
| 1. කුටුම්භ අංශය | 3. ආණ්ඩුව | 5. කම්කරු සංවිධාන |
| 2. රාජ්‍ය නොවන සංවිධාන | 4. සේවා අංශය | |

meyeos, s lsrSu

95) ආර්ථිකය තුළ ආණ්ඩුවේ මැදිහත් වීම අවම මට්ටමක පවතින්නේ,

- | | | |
|----------------------------|-----------------------|------------------------|
| 1. විධාන ආර්ථිකයක ය | 3. මිශ්‍ර ආර්ථිකයක ය | 5. වෙළෙඳපොළ ආර්ථිකයක ය |
| 2. සම්ප්‍රදායික ආර්ථිකයක ය | 4. සමාජයීය ආර්ථිකයක ය | |

meyeos, s lsrSu

96) නිදහස් වෙළෙඳපොළ ආර්ථිකයක මිල යාන්ත්‍රණයේ කාර්යයන් අදාළව පහත ඇති ප්‍රකාශ අතුරින් නිවැරදි ප්‍රකාශය වන්නේ කවරක් ද?

1. වෙළෙඳපොළ මිල ඉහළ යෑමට සැලැස්වීමේ කිසියම් භාණ්ඩයක සැපයුම් අතිරික්තයක් ඉවත් කෙරේ.
2. මිල ස්ථායීතාවය සහතික කරයි.
3. නිෂ්පාදන ඉලක්ක තීරණය කිරීමට ආණ්ඩුව මිල යාන්ත්‍රණය උපයෝගී කර ගනී.
4. මිල ගණන් පහත වැටීම, නිෂ්පාදන ආයතන වෙළෙඳ පොළට ප්‍රවේශ වීම දිරිමත් කරයි.
5. මිල යාන්ත්‍රණය සලාකන උපකරණයක් ලෙස ක්‍රියා කරයි.

meyeos, s lsrSu

97)

1. නිදහස් වෙළෙඳපොළ ආර්ථිකයක පෞද්ගලික දේපළ හිමිකම සුරක්ෂිත කර නොදමයි.
2. ලාභ ඉපයීමේ අරමුණ සෑම විටමදීම අහිතකර වීමයි.
3. ආයතන අතර තරඟය නිසා පාරිභෝගික ශුභ සාධනය උපරිම වන බව සහතික වීමයි.
4. නිදහස් වෙළෙඳපොළ ආර්ථිකයක වෙළෙඳපොළ අසාර්ථකත්වයන් හටගත හැකි වීමයි.
5. නිදහස් වෙළෙඳපොළ ආර්ථිකයක් සෑම විටදීම සම්පත් කාර්යක්ෂමව බෙදා වෙන්කර කටයුතු කිරීමයි.

meyeos, s lsrSu

98) පාරිභෝගික ස්වාධීපත්‍යය හටගනුයේ,

1. කුමක් නිෂ්පාදනය කළ යුතුද යන්න පාරිභෝගික ඉල්ලුම විසින් තීරණය කරනු ලබන විටදීය.
2. පාරිභෝගිකයා විසින් භාණ්ඩයක් සඳහා ගෙවීමට කැමති මිලට වඩා අඩු මිලක් ගෙවනු ලබන විටදීය.
3. භාණ්ඩය පිළිබඳ ප්‍රචාරණයක් වෙළෙඳපොළක නොමැති විටකදීය.
4. ඉල්ලුම සැපයුමට සමාන වන විටදීය.
5. වෙළෙඳපොළෙහි තේරීමකට අවස්ථාවක් ඇති විටදීය.

meyeos, s lsrSu

99) නිදහස් වෙළෙඳපොළ ආර්ථිකයක මිල යන්ත්‍රණයේ ප්‍රධාන කාර්යන් අතරින් එක් කාර්යක් වනුයේ,

- | | |
|--|----------------------------|
| 1. පූර්ණ සේවා නියුක්තිය තහවුරු කිරීමයි | 4. හිඟ සම්පත් සලාක කිරීමයි |
| 2. මිල ගණන් ස්ථාවරව තබා ගැනීමයි | 5. පොදු භාණ්ඩ සැපයීමයි |
| 3. ආදායම සමානව බෙදී යාම තහවුරු කිරීමයි | |

meyeos, s lsrSu

100) වෙළෙඳපොළ ආර්ථිකයක මිල යාන්ත්‍රණයට පහත සඳහන් කී අතුරින් මුදුන් පමුණුවා ගත නොහැක්කේ,

1. පාරිභෝගික වරණය වෙනස් වීම පිළිබඳව සංඥා ලබා දීම.
2. ඉල්ලුම වෙනස්වීම අනුව සැපයුම ප්‍රතිචාර දැක්වීම.
3. අධි සැපයුම හා අධි ඉල්ලුම ඉවත් කිරීම.
4. සාධාරණ අන්දමට සියළුම භාණ්ඩ හා සේවා බෙදාහැරීම තහවුරු කිරීම.

5. විකල්ප ප්‍රයෝජන අතර හිඟ සම්පත් බෙදා හැරීම.

meyeos, s lsrSu

