



PRIMARY SECTION  
ZAHIRA COLLEGE - COLOMBO.



SPECIAL ASSESSMENT - FEBRUARY - 2015

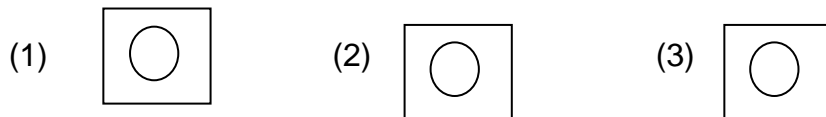
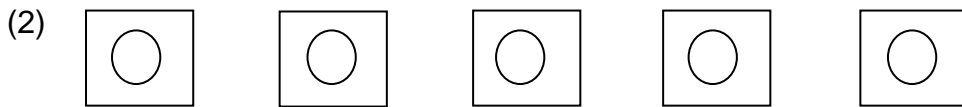
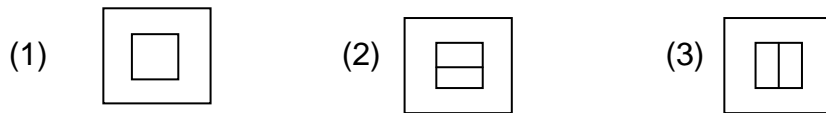
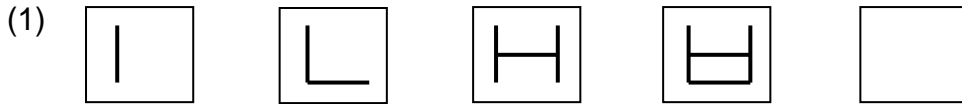
GRADE - 5

I - PAPER

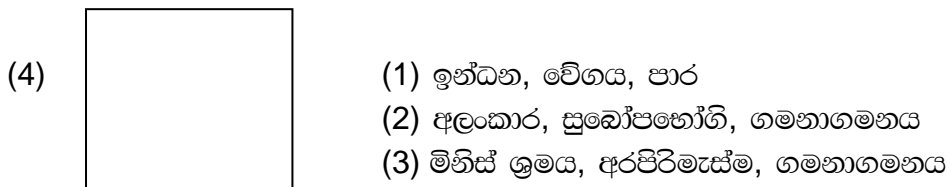
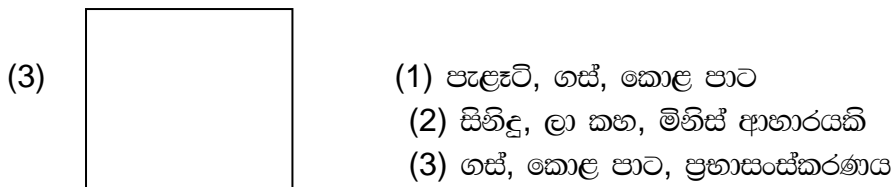
01 hr & 45 Mints

Admission No. : ..... Class : .....

❖ පහත රටාවට අනුව ඊළඟට ආ යුතු රූපය තෝරා ගැනීමේ ඉරක් අඳින්න.



❖ 3, 4 ප්‍රශ්න වලට මුලින්දී ඇති රූපයට ගැලපෙන පිළිතුර ගැනීමේ ඉරක් අඳින්න.



❖ පහත කවිය කියවා ප්‍රශ්න වලට පිළිතුරු තෝරා සපයන්න.

වත්ත පුරා හිමිදිරියේ - සුදු පාටට මල් පිපිලා  
මඳ සුළගේ නැළවෙන කොට - හරිම ලස්සනයි  
සුදු පාවිත් බැබළී බැබළී - අකුරට යන

(5) මෙම කවියෙන් කියවෙන්නේ,

1. වත්ත පුරා මල් පිපි ඇති බව.
2. පුවි ළමයින්ගේ පියකරු බව ගැන.
3. සුළඟට මල් සෙලවෙන ආකාරය ගැන.

(6) මෙම කවියෙන් දක්වා ඇත්තේ දවසේ කුමන කාලයකදීද?

1. රාත්‍රී කාලය.
2. සවස් කාලය.
3. උදය කාලය.

❖ නොගැළපෙන වචන කාණ්ඩය අඩංගු පිළිතුර තෝරා යටින් ඉරක් අඳින්න.

(7)

පත්තර  
ගුවන් විදුලිය  
මරලෝසුව

පොත  
පැන්සල  
මකනය

පුටුව  
මේසය  
අල්මාරිය

(8)

පවන  
වවන  
හවන

කතර  
හතර  
සතර

දුවන  
කවන  
හමන

❖ 9 සිට 11 දක්වා ප්‍රශ්න වල මූලින් දී ඇති වචන කට්ටලයට නොගැළපෙන වචන කට්ටලය තෝරා යටින් ඉරක් අඳින්න.

(9) ගුරුකුමා - පාසල

- නිතීඥයා - උසාවිය
- මගියා - දුම්රිය
- රෝගියා - රෝහල

(10) මූලන් - වැල්

- රෝස - මල්
- අශ්වයා - ලී
- තේ - පඳුරු

(11) රෝගය - බෙහෙත්

- ගුරුකුමා - හුණුකුර
- බඩගින්න - ආහාර
- පිපාසය - ජලය

(12) 12, 13 ප්‍රශ්නවලට දී ඇති වචන අකරාදි පිළිවෙලට නිවැරදිව ලියා ඇති පේළිය තෝරන්න.

A – ඇන්නා                      B – ඔරුව                      C – එළුවා                      D – ඊතලය

1. ABCD                                      2. ADCB                                      3. ACDB

(13) A – කතරගම                      B – ටකරම                      C – තනියම                      D – වට්ටිය

1. ABCD                                      2. ACBD                                      3. ADBC

❖ පහත ප්‍රශ්න වලට ගැළපෙන පිළිතුර තෝරා යටින් ඉරක් ඇඳන්න.

(14) රාධිකා, සදිකා යන අයගේ වයස් වල එකතුව 36 වේ. රාධික සදිකාට වඩා අවුරුදු 4 ක් බාලයි නම්, රාධිකාගේ වයස කීයද?

1. අවු 16                                      2. අවු 18                                      3. අවු 20

(15) සුගත්ගේ දැන් වයස අවුරුදු 12 කි. මාදුවන්ගේ වයස අවුරුදු 9 කි. මාදුවන්ගේ වයස සුගත්ගේ වයසෙන් හරි අඩක්ව තිබෙන විට සුගත්ගේ වයස කීයද?

1. අවු 7                                      2. අවු 8                                      3. අවු 9

(16) පාසල ආරම්භ වී 50 වන සංවත්සරය 2008 පවත්වන ලදී. එවිට ප්‍රියාගේ වයස අවුරුදු අවුරුදු 10 කි. එම පාසලේ 100 වන සංවත්සරය සමරන විට ප්‍රියාට වයස කීයද?

1. අවු 40                                      2. අවු 50                                      3. අවු 60

(17) 63462341 යන ඉලක්කම් වෙනුවට ඉංග්‍රීසි අක්ෂර භාවිතා කර ලියූ විට ලැබෙන පිළිතුර වන්නේ,

1. ERLMKLR  
2. SPLSKPLM  
3. VSPMSRPY

(18) කෙනෙකු තැන්ගත් බව හැඟෙන වාක්‍ය කුමක්ද?

1. මුව පැටවකු ලෙස වෙච්චවා.  
2. භාවකු වාගේ දිව්වා.  
3. සිංහයකු ලෙස ගෙරෙච්වා.

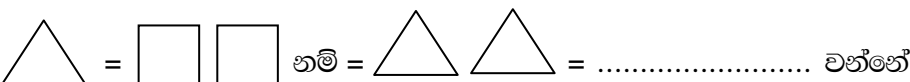
(19) උඩ පැන්තෝන් බිම වැටෙයි යන අදහස ගෙන දේ


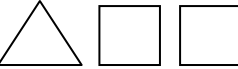

1. උඩ නොපැන්තෝන් බිම නොවැටෙයි.  
2. උඩ යන සියලු දේ බිමට පතිත වේ.  
3. උඩ පැන්තෝන් බිම නොවැටේ.



නිස්තැනට ගැළපෙන පිළිතුර වන්නේ,

1. 411                                      2. 421                                      3. 256

(21) 

1.                       2.                       3. 

❖ මිල දර්ශණය ඇසුරින් පිළිතුර තෝරන්න.

ද්‍රව්‍ය	ප්‍රමාණය	මිල රු.ගන
කෝංචි	100g	12.00
කැරට්	1 kg	65.00
බීට්‍රිසට්	500g	45.00

(22) මිල දර්ශණයට අනුව මිල වැඩි වූවලට වර්ගය කුමක්ද?

1. කෝංචි
2. කැරට්
3. බීට්‍රිසට්




(23) මිල දර්ශණයට අනුව මිල අඩු වූවලට වර්ගය කුමක්ද?

1. කෝංචි
2. කැරට්
3. බීට්‍රිසට්




(24) කැරට් 2kg හා බීට්‍රිසට් 250g ක මිල කීයදැයි

1. රු. 130.00
2. රු. 110.00
3. රු. 152.50

(25) ඉන්ධන වලින් ගමන් කරන වාහන / ගමනා ගමනය / කාර්

1. 
2. 
3. 

(26) අඹ, අන්නාසි, පළතුරු

1. 
2. 
3. 

❖ නිවැරදි පිළිතුර තෝරන්න.

(27) “රජ ගෙදර පරවීයා” යන යෙදුමෙහි අදහස වන්නේ

1. ග ඉතා රස ආහාර ඇති බව.
2. ග ඉතා දුක ජීවිතයක් ගත කරන බව.
3. ග ඉතා සැපදායී ජීවිතයක් ගත කරන බව.

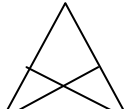

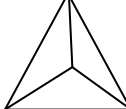
(28) “කාගෙන් හොඳ නරක පෙනෙන්නේ කාරිය කරන විටය”

1. ආචාර්යා රචනා කරන සෑදුම්‍ය වගේ.
2. කණ කොක් සුදු පෙනෙන්නේ ඉතිරිවන විටය.
3. මිටිකිරි සවිකර දියකිරි ගන්නා වගේ.

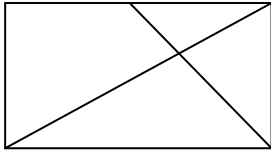
(29) අක්ෂර වින්‍යාසය නිවැරදි වන තෝරා ගන්න ඉරක් ඇඳින්න.

1. කොතුකාගාරය
2. ප්‍රදර්ශනය
3. සෞඛ්‍යය

(30) පහත රූපයේ ත්‍රිකෝණය අටකින් ඇති රූපය කුමක්ද?

1. 
2. 
3. 

(31)



මෙම රූපයේ ඇති ත්‍රිකෝණ ලඟහ කීද?

1. 8

2. 9

3. 10

❖ පහත ප්‍රශ්නය යම් සිද්ධියක අවස්ථා ක්‍රමානුකූලව දක්වා නැත. එහි ක්‍රමානුකූලව පෙළ ගැන්වූ විට ලැබෙන පිළිවෙලට අදාළ පිළිතුර යටින් ඉරක් අඳින්න.

(32)

- A - මගින් බස්රථයට ගොඩවිය.
- B - ටියදුරු වාහනය පණ ගැන්විය.
- C - කොන්දොස්තර ප්‍රවේශ පත්‍ර ලබා දුන්න.
- D - බස්රථයට බස් නැවතුම් පලේ නවත්වන ලදී.

1. B A D C

2. D A C B

3. C A D B

(33)

- A - මුහුණ කට සේදුවා.
- B - සවස පන්ති නොමැති නිසා යාථිවන් සමග සෙල්ලම් කළා.
- C - මයුර පාසල ඇරි ගෙදර ආවා.
- D - දවල් ආහාරය ගන්නා.

1. C A D B

2. A D C B

3. C D A B

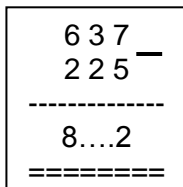
(34) රු. 6.50 කට ඇති සහ 25 කාසි ගණන කීයද?

1. 26

2. 28

3. 30

(35)



මෙහි හිස්තැනට ආ යුතු ඉලක්කම වන්නේ

1. 1

2. 5

3. 6

(36) “මහරගම” යන්න සංකේත වලින් යෙදුනු විට දැක්විය හැක්කේ,

1. + X 0 □ +

2. △ X 0 □ +

3. □ X 0 □ □

(37) ඉහත සංකේත අනුව ⊗ ⊗ ⊙ □ + යන්න දැක්වෙන වචනය වන්නේ,

❖ පෝලිමක පියල් සිටින්නේ ඉදිරි කෙළවරේ සිට 12 වෙනියාටය. පහත කෙළවරේ සිට 8 වෙනියාටය ඒ අනුවල

(38) පෝලිමේ කී දෙනෙක් සිටිද?

1. 19

2. 20

3. 21

(39) එම පෝලිමේ අනිල් සිටින්නේ ඉදිරිපස සිට 5 වෙනියාට නම් ඔහුට පසුපසින් කී දෙනෙක් සිටිද?

1. 16

2. 15

3. 14